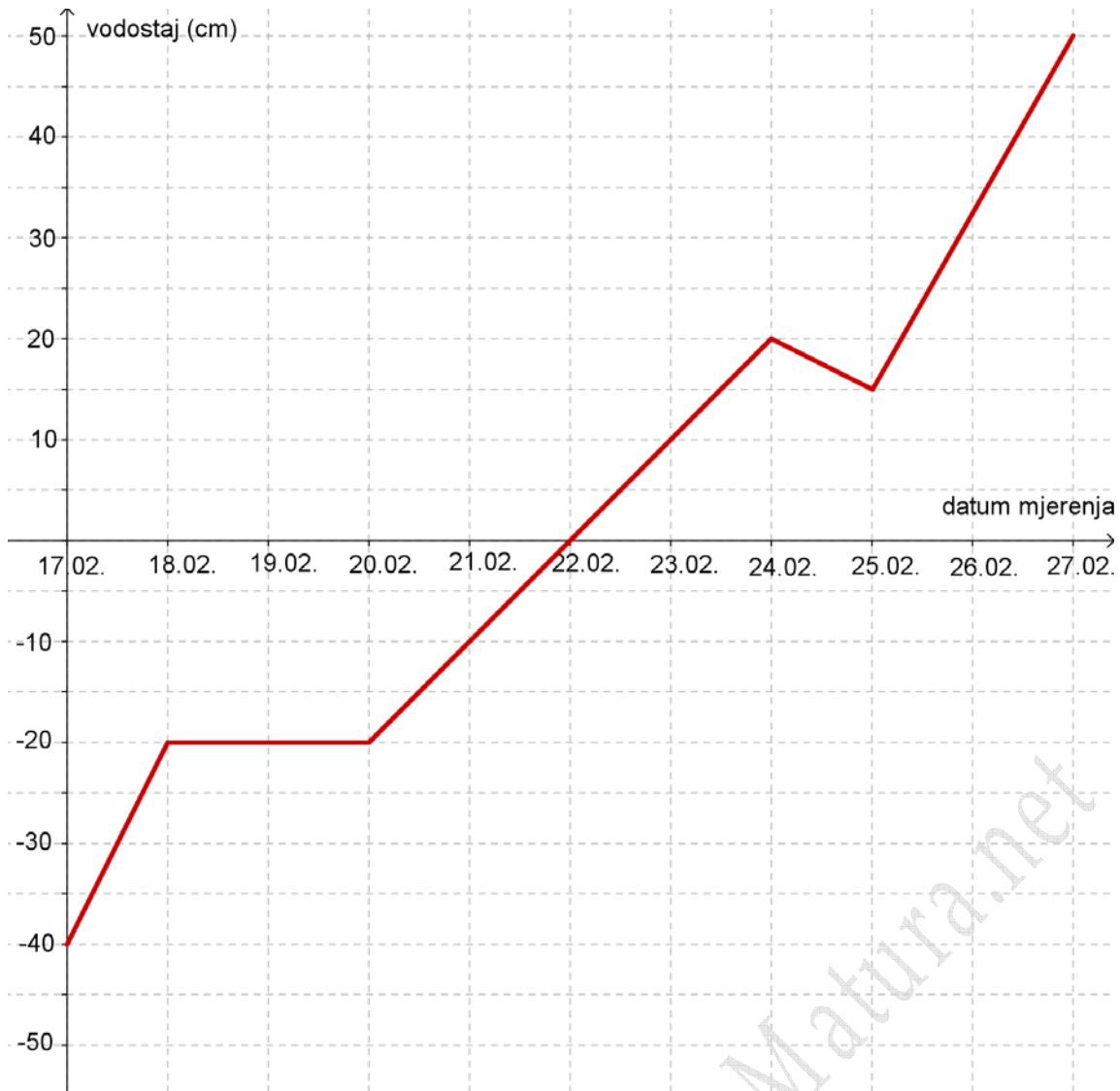
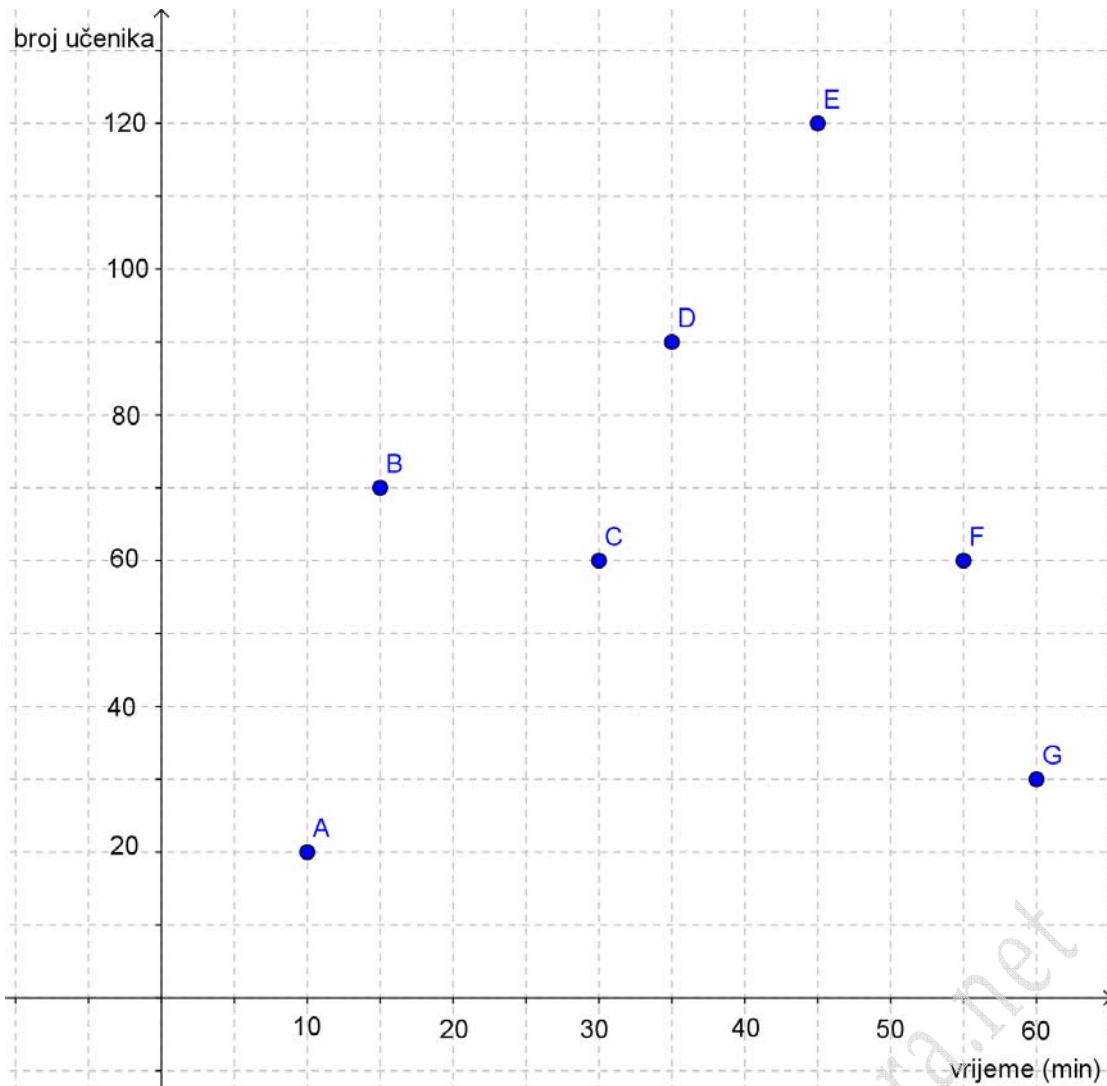


1. Slika prikazuje vodostaj Drave mjereno u Osijeku tijekom deset dana.



- Koliki je bio vodostaj rijeke 25.02.?
- Za koliko se promijenio vodostaj rijeke od 20.02. do 24.02.?
- Od kojeg do kojeg datuma se vodostaj nije mijenjao?
- Što se dogodilo s vodostajem Drave od 24.02. do 25.02.?

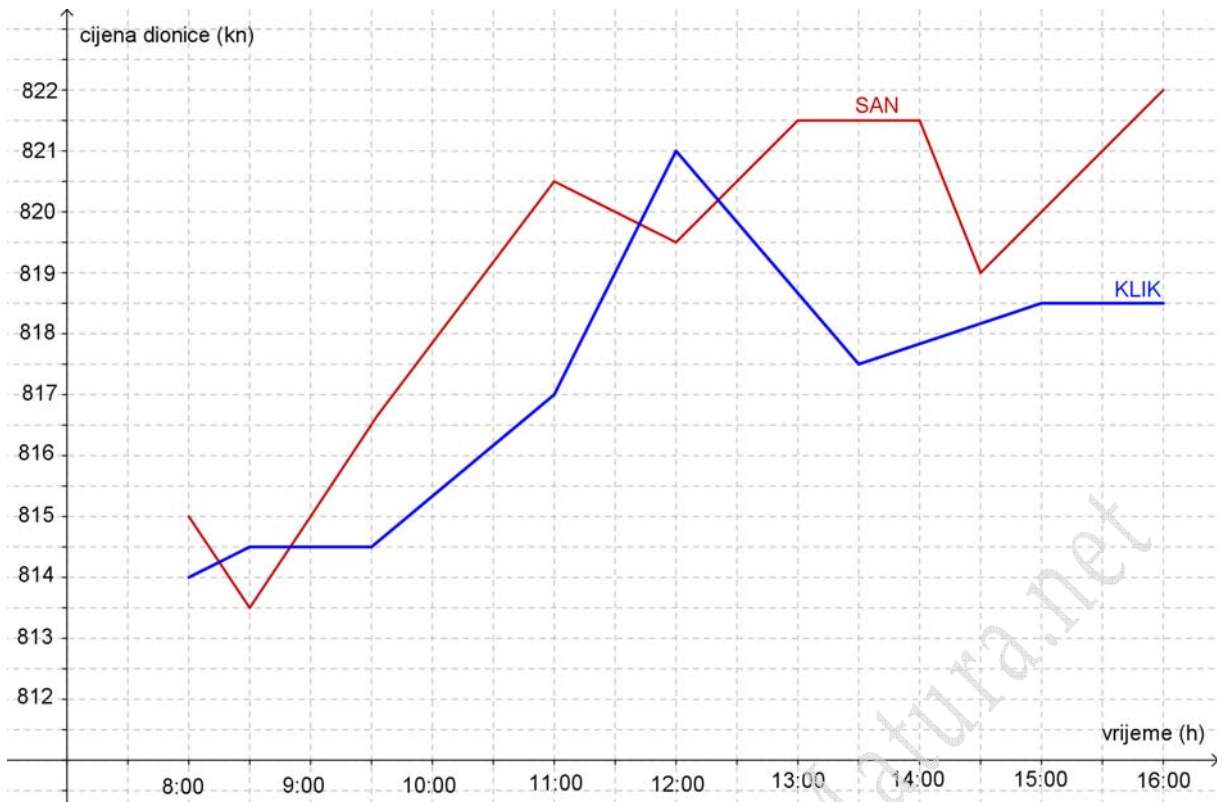
2. Bilježeno je vrijeme potrebno učenicima da riješe kviz znanja iz matematike na stranicama mojamatura.net.



Točka A označuje da je kviz riješilo 20 učenika za više od 0 a manje od 10 minuta.
Točka B označuje da je kviz riješilo 70 učenika za više od 10 a manje od 15 minuta.
Točka C označuje da je kviz riješilo 60 učenika za više od 15 a manje od 30 minuta.

- Što označuje točka F?
- Koliko je učenika riješilo kviz za više od 35 a manje od 45 minuta?
- Koliko je učenika rješavalo kviz?
- Koliki je postotak učenika riješio kviz za više od 30 a manje od 35 minuta?

3. Na slici je prikazano kretanje cijene dionica dvije tvrtke tijekom jednog dana, crvena boja-tvrtka „SAN“ i plava boja-tvrtka „KLIK“.



- Kolika je najviša cijena dionice tvrtke „KLIK“ i u koliko sati je postignuta ta cijena?
- Kolika je cijena dionice tvrtke „SAN“ u 11:00?
- U kojem periodu se nije mijenjala cijena dionice tvrtke „KLIK“?
- Koliko puta su cijene dionica ove dvije tvrtke bile jednake?
- U 8:30 kupljeno je 10 dionica tvrtke „SAN“ koje su prodane u 15:00. Je li ostvarena dobit ili gubitak i koliko iznosi?

Rješenja:



1. a) 15 cm;
b) za 40 cm;
c) od 18.02. do 20.02.;
d) spustio se za 5 cm.
2. a) Točka F: kviz je riješilo 60 učenika za više od 45 a manje od 55 minuta;
b) 120 učenika (točka E)
c) 450 učenika
d) 20%
3. a) 821 kn u 12:00
b) 820.5 kn
c) od 8:30 do 9:30 i od 15:00 do 16:00.
d) 4 puta
e) dobit od 65 kuna

MojaMatura.net

Autor: Nataša Leko